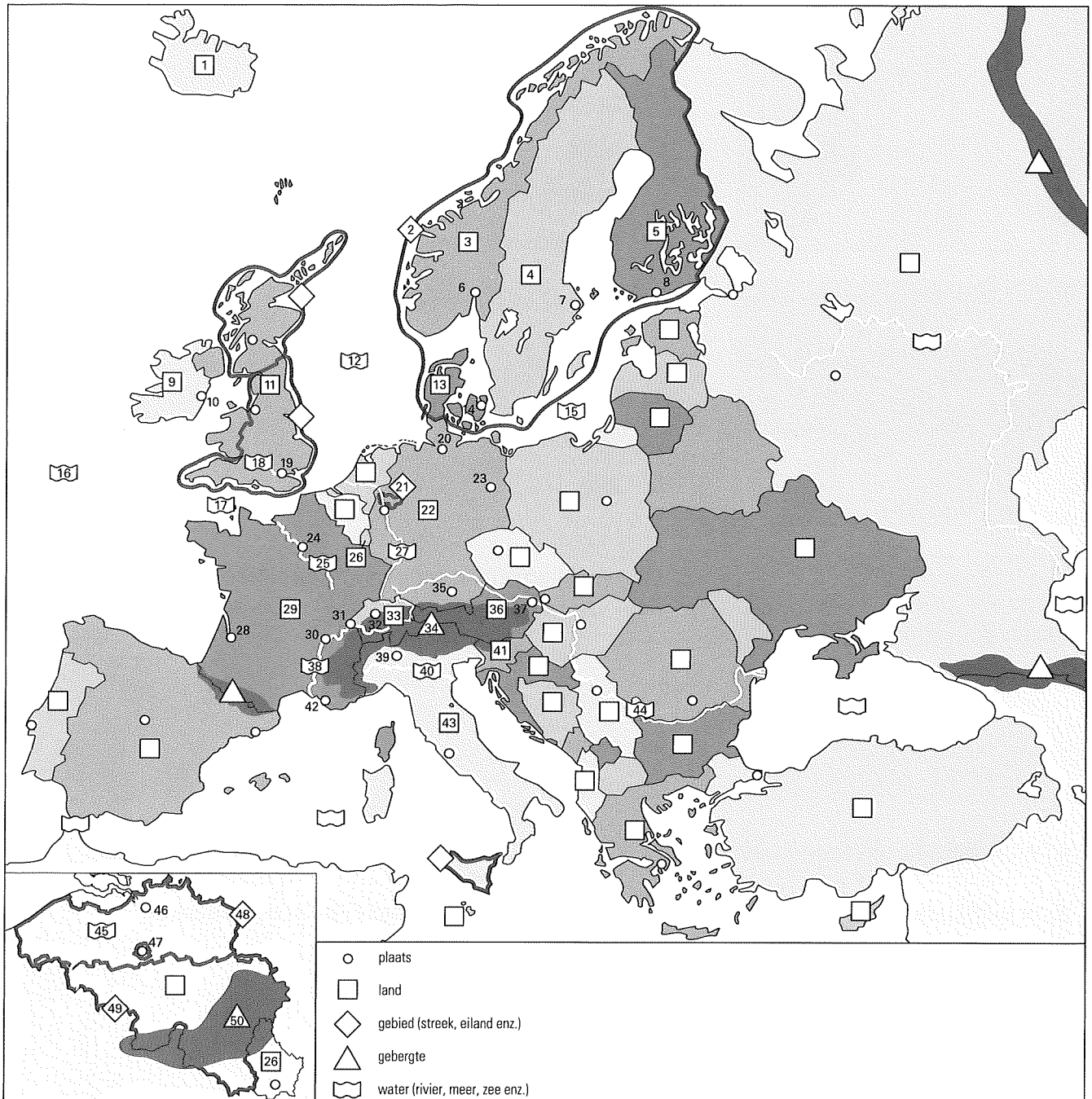


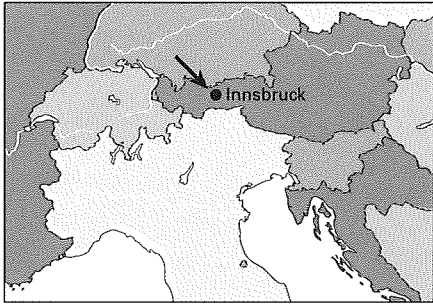
Naam: _____ Datum: _____ Aantal goed: _____



Gebruik de namen op het Antwoordblad van Huiswerkblad A om de topotoppers op deze kaart uit je hoofd te leren.

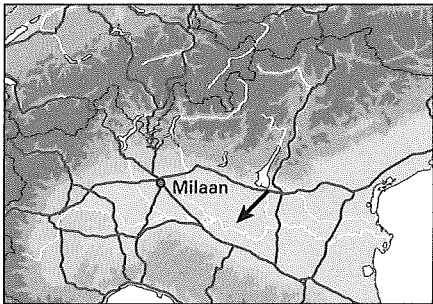
Laat je daarna overhoren. Bij de overhoring gebruik jij Huiswerkblad A en degene die jou overhoort het Antwoordblad van Huiswerkblad A.

Naam: _____ Datum: _____ Aantal goed: _____




1. In Innsbruck staat een olympische skispringschans. In welk land ligt Innsbruck?

- Duitsland
- Italië
- Oostenrijk
- Zwitserland



2. Welke rivier zie je bij de pijl?

- Donau
- Po
- Rhône
- Rijn



3. Op een vliegveld staat een afstandenbord. In welk land bevindt zich dit vliegveld?

- Denemarken
- IJsland
- Noorwegen
- Zweden

- | | |
|--------------------------------------------|---------------------------------|
| 4. Welk land ligt in Scandinavië? | Denemarken / Italië / Duitsland |
| 5. In welk land vind je de Alpen? | Ierland / Finland / Zwitserland |
| 6. De Rhône stroomt door Oostenrijk. | Ja / Nee |
| 7. Genève ligt in Zwitserland. | Ja / Nee |
| 8. De Schelde mondt uit in Het Kanaal. | Ja / Nee |
| 9. Wenen ligt in Duitsland. | Ja / Nee |
| 10. IJsland ligt in de Atlantische Oceaan. | Ja / Nee |